

**SEQUÊNCIA DE ATIVIDADES DE MATEMÁTICA**

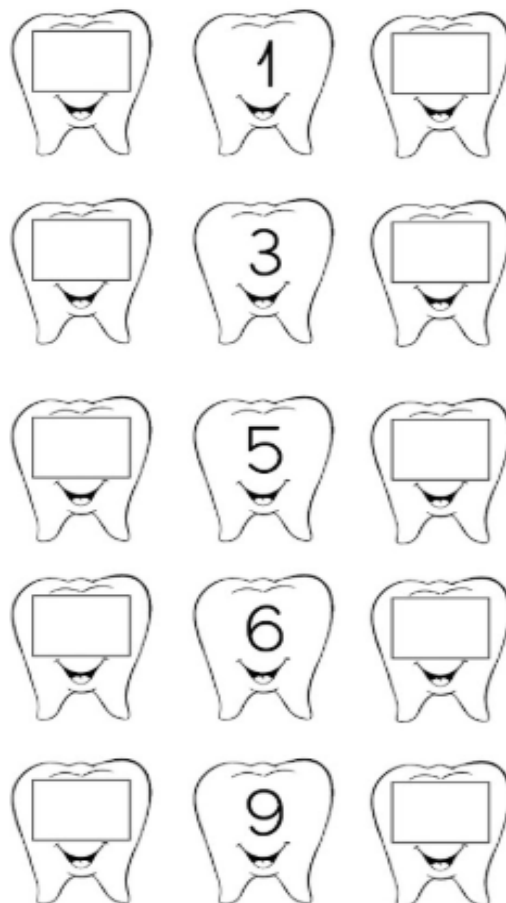
**ALUNO(A):** \_\_\_\_\_ **DATA:** 13/05/2020

**PARTE 2**

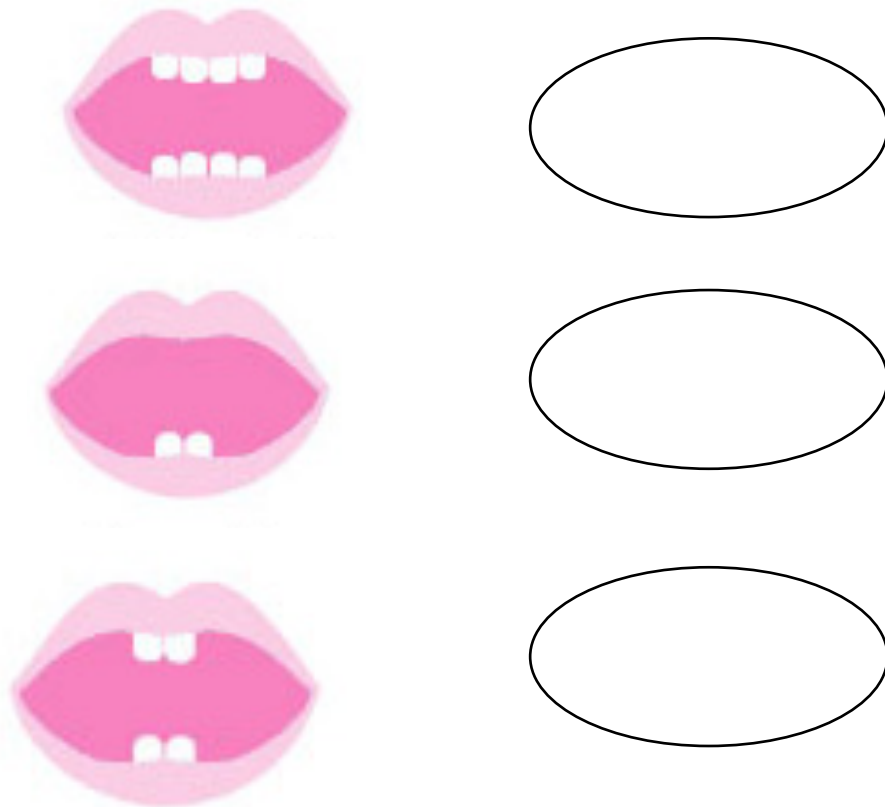
1. COMPLETE A SEQUÊNCIA DOS NUMERAIS – O QUE VEM ANTES E O QUE VEM DEPOIS.

PARA REALIZAR A ATIVIDADE, PRIMEIRO OBSERVE A SEQUÊNCIA ABAIXO:

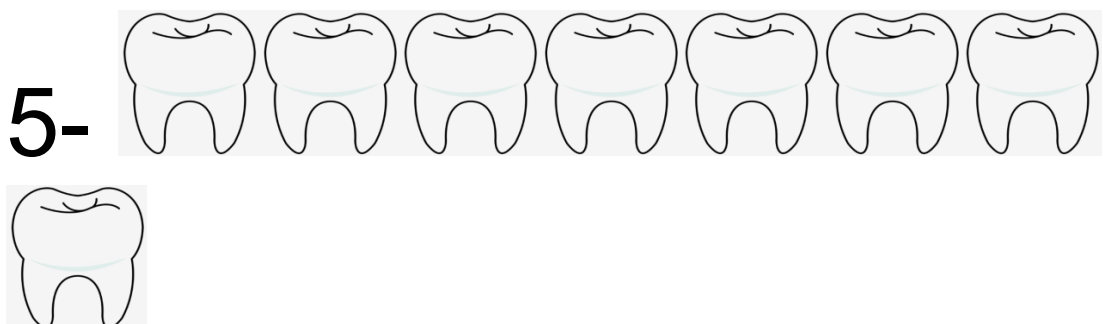
0	1	2	3	4	5	6	7	8	9	10
---	---	---	---	---	---	---	---	---	---	----



2. AJUDE A COMPLETAR DEZ DENTES EM CADA BOCA. DESENHE E REGISTRE A QUANTIDADE QUE FALTA.



3. PINTE O NÚMERO DE DENTES DE ACORDO COM O NUMERAL REPRESENTADO:



4. JÁ CAIU ALGUM DENTE SEU?

QUANTOS?

REGISTRE SUA RESPOSTA COMO DESEJAR.

**NÃO SE ESQUEÇA DE  
ESCOVAR BEM SEUS  
DENTINHOS!**