

SEQUÊNCIA DE ATIVIDADES DE MATEMÁTICA

ALUNO (A): _____ DATA: 30/06/2020

RESOLVENDO SITUAÇÕES-PROBLEMA

- 1) A FAMÍLIA DO DAVI TEM UMA CHÁCARA. ELE TEM 4 GALINHAS. O DAVI GOSTA MUITO DE CUIDAR DELAS. TODOS OS DIAS ELE RECOLHE 4 OVOS DE CADA GALINHA. QUANTOS OVOS NO DIA ELE RETIRA DO GALINHEIRO?

- 2) ALGUNS PROFESSORES DA ESCOLA TÊM ANIMAIS DE ESTIMAÇÃO. LEIA OS DADOS PARA DEPOIS COMPLETAR A TABELA.

PROFESSORA JOSI: 3 GATAS E 1 CACHORRO

PROFESSORA GUGA: 1 CACHORRO

PROFESSORA RENATA: 1 CACHORRO

PROFESSORA KARLA: 2 GATAS


PROFESSORA ISABEL: 1 TARTARUGA

PROFESSORA LILICA: 1 CACHORRO


PINTE NA TABELA A QUANTIDADE PEDIDA:

ANIMAIS COM 4 PATAS															
ANIMAIS COM 2 PATAS															


3) VEJAM SÓ ALGUNS DELES E COMO SÃO FOFOS.



ZOE E BELA



SOFI E NINA



SIMBA



BULL




DALVA

AGORA, RESPONDA:

A) QUANTOS ANIMAIS APARECEM NAS FOTOS?

B) CONTE O NÚMERO DE PATAS REUNINDO TODOS OS ANIMAIS DAS FOTOS ACIMA. REGISTRE SEU CÁLCULO.



ORIENTAÇÕES:

1. NÃO ESQUEÇA DE *ENCAMINHAR A ATIVIDADE REALIZADA PARA O E-MAIL DA SUA PROFESSORA:*

1º ANO A- Prof.^a Sissi (profesissi.1A@gmail.com)

1º ANO B- Prof.^a Renata (profere.1b@gmail.com)

1º ANO C- Prof.^a Patricia (profepatri.1c@gmail.com)

1º ANO D- Prof.^a Karla (profekarla.1d@gmail.com)

1º ANO E- Prof.^a Josi (profejosi.1e@gmail.com)

OBJETIVOS

- RESOLVER SITUAÇÕES-PROBLEMA QUE ENVOLVAM IDEIAS LÓGICO-MATEMÁTICAS.

MODALIDADE

- ESTE MATERIAL É ACOMPANHADO DE PROPOSTAS DE REFLEXÕES E ESCRITA.



ESCRITA