
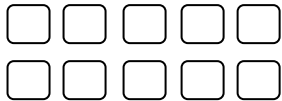


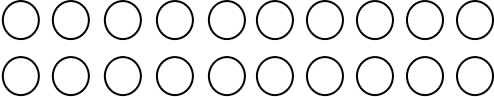
SEQUÊNCIA DE ATIVIDADES DE MATEMÁTICA

ALUNO (A): _____ **DATA: 16/07/2020**

1) COMPLETE A QUANTIDADE SOLICITADA.

10	
-----------	---


20	
-----------	---

30	
-----------	--

VAMOS PENSAR JUNTOS:

A) PARA COMPLETAR **20** E **30**, QUANTOS DESENHOS VOCÊ PRECISOU FAZER?

B) CONTANDO A PARTIR DO NÚMERO **30**, DE QUANTO PRECISAMOS PARA CHEGAR AO **40**?



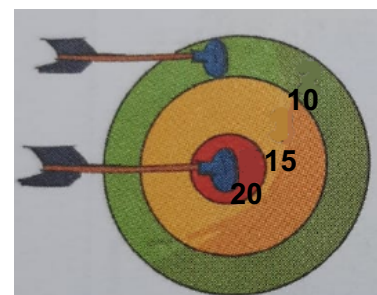
2) DESENHE E DESCUBRA A QUANTIDADE NECESSÁRIA PARA FORMAR **20**.

$$\boxed{12} + \boxed{} = 20$$

$$\boxed{14} + \boxed{} = 20$$

$$\boxed{18} + \boxed{} = 20$$

3) A PROFESSORA JOSI DECIDIU BRINCAR DE “DARDOS AO ALVO.” NA PRIMEIRA RODADA ELA MARCOU 10 PONTOS, E NA SEGUNDA, CONSEGUIU ACERTAR 20 PONTOS. AO TOTAL, QUANTOS PONTOS ELA FEZ?



ORIENTAÇÕES:

1. NÃO ESQUEÇA DE *ENCAMINHAR A ATIVIDADE REALIZADA PARA O E-MAIL DA SUA PROFESSORA:*

1º ANO A- Prof.^a Sissi (profesissi.1A@gmail.com)

1º ANO B- Prof.^a Renata (profere.1b@gmail.com)

1º ANO C- Prof.^a Patricia (profepatri.1c@gmail.com)

1º ANO D- Prof.^a Karla (profekarla.1d@gmail.com)

1º ANO E- Prof.^a Josi (profejosi.1e@gmail.com)

OBJETIVOS

- CONTAR, FORMAR E REPRESENTAR NÚMEROS E QUANTIDADES SOLICITADAS.
- RESOLVER SITUAÇÕES-PROBLEMAS QUE ENVOLVAM IDEIAS LÓGICO MATEMÁTICAS.

MODALIDADE

- ESTE MATERIAL É ACOMPANHADO DE PROPOSTAS DE REFLEXÕES E ESCRITA.



ESCRITA