








1º ANO - ROTEIRO DE ESTUDO 1 - DIA 31/08/2020

ATIVIDADE DE MATEMÁTICA

NOME: \_\_\_\_\_

1) OBSERVE A PREVISÃO DO TEMPO...

DOMINGO	SEGUNDA-FEIRA	TERÇA-FEIRA	QUARTA-FEIRA	QUINTA-FEIRA	SEXTA-FEIRA	SÁBADO
	CHUVOSO 	CHUVOSO 	CHUVOSO 			
NUBLADO				NUBLADO	ENSOLARADO	ENSOLARADO

E RESPONDA:

1- EM QUAIS DIAS DA SEMANA CHOVERÁ?

2- COMO ESTARÁ O TEMPO NO SÁBADO?

3- QUANTOS DIAS SERÃO NUBLADOS?

4- QUAL O TEMPO QUE PREDOMINOU ESTA SEMANA?

5- NUM TEMPO CHUVOSO, COMO O DE QUARTA-FEIRA, O QUE VOCÊ FARIA?

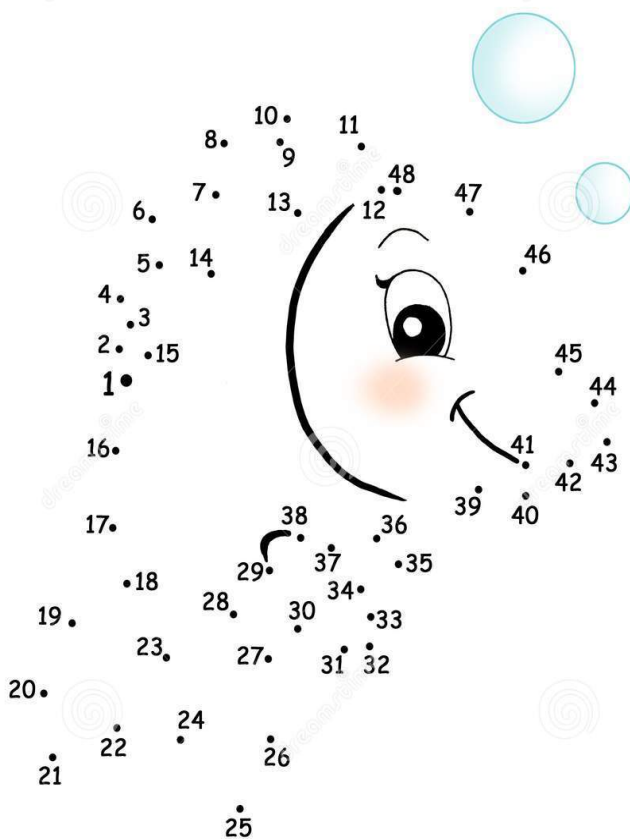
6- SE VOCÊ PUDESSE MONTAR O QUADRO DO TEMPO PARA A PRÓXIMA SEMANA, COMO FICARIA? DESENHE:

DOMINGO	SEGUNDA-FEIRA	TERÇA-FEIRA	QUARTA-FEIRA	QUINTA-FEIRA	SEXTA-FEIRA	SÁBADO

2) COMPLETE A SEQUÊNCIA.

ONTEM FOI:	SE HOJE É:	AMANHÃ SERÁ:
	SEGUNDA-FEIRA	
	QUARTA-FEIRA	
	SEXTA-FEIRA	
	DOMINGO	

3) VAMOS BRINCAR DE LIGAR?



COM QUAL NÚMERO VOCÊ  
COMEÇOU? \_\_\_\_\_

COM QUAL NÚMERO VOCÊ  
TERMINOU? \_\_\_\_\_