














Aluno(a): _____ DATA: 20/08/2020

ATIVIDADE DE MATEMÁTICA
QUADRO DA CENTENA

ORIENTAÇÕES:






- 1- REGISTRE O SEU NOME COMPLETO;
- 2- LEIA COM ATENÇÃO OS ENUNCIADOS DAS QUESTÕES;
- 3- EM CASO DE DÚVIDA, CONSULTE A PROFESSORA.

OBSERVE O TABULEIRO ABAIXO:





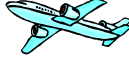
	101	102		104	105	106		108	109
		112	113	114	115	116	117	118	
	121	122	123	124		126	127	128	129
	131	132	133		135	136	137	138	139
	141	142	143	144	145		147	148	149
	151	152	153	154	155	156	157		159
	161		163	164	165	166	167	168	169
	171	172	173	174	175		177	178	179
		182	183	184	185	186	187	188	
	191	192		194	195	196		198	199

1. CIRCULE A FIGURA QUE VOCÊ ENCONTRA NA CASA DO NÚMERO:






- 109 →

				
---	---	---	--	---

- 134 →

				
---	---	---	--	---






- 150 →

				
---	---	---	--	---


- 176 →

				
---	---	---	--	---

- 189 →

				
---	---	---	--	---

2-OBSERVE OS SÍMBOLOS EM DESTAQUE E ESCREVA NO RETÂNGULO EM BRANCO, QUAL É O NÚMERO AO QUAL ELE CORRESPONDE. EM SEGUIDA, ESCREVA OS NÚMEROS QUE VÊM ANTES E DEPOIS DELE.





3- ESCREVA POR EXTENSO OS NÚMEROS ABAIXO:

105 _____

124 _____

183 _____