


ROTEIRO DE ESTUDO 3 - ATIVIDADE DE MATEMÁTICA - 10/09/2020

NOME: _____

1) VAMOS FORMAR NÚMEROS DE DIFERENTES FORMAS!

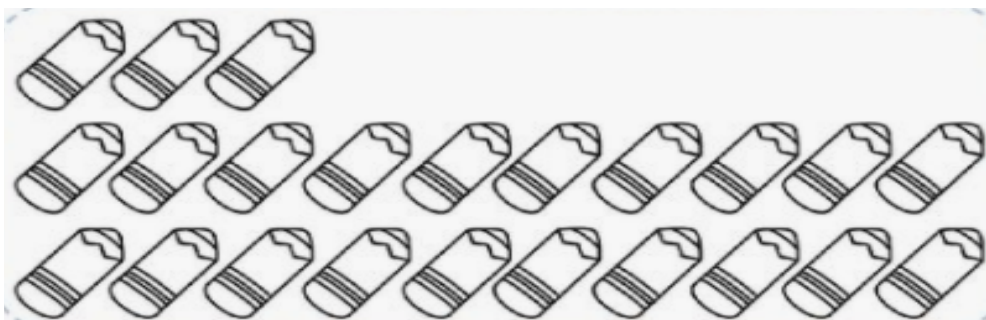


2) OBSERVE OS LÁPIS E RESPONDA:

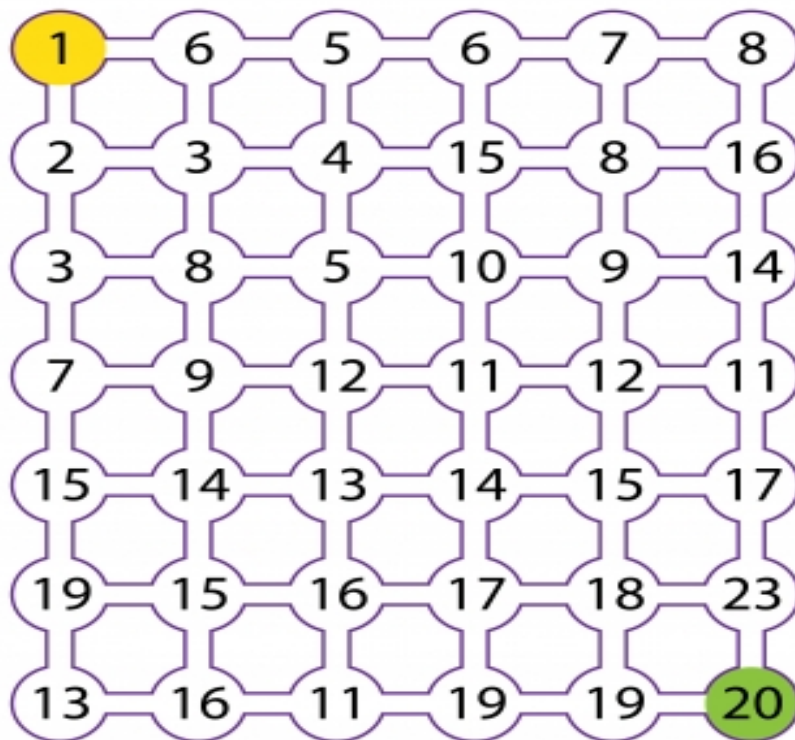
-QUANTOS GRUPOS DE 10 LÁPIS PODEMOS FORMAR? _____

-QUANTOS LÁPIS TEM NO TOTAL? _____

-QUANTOS LÁPIS FALTAM PARA COMPLETAR 3 GRUPOS DE DEZ? _____



3) CAMINHE DO 1 AO 20 COM MUITA ATENÇÃO!



4) OBSERVE O QUADRO, LEIA AS INSTRUÇÕES E RESPONDA DE ACORDO:

21		23		25		27	28	29	30
31	32	33	34		36	37	38	39	40
		43	44	45	46	47		49	50

- A) PINTE DE VERDE O NÚMERO QUE VEM ANTES DO 31.
- B) PINTE DE VERMELHO O NÚMERO QUE VEM DEPOIS DO 26.
- C) CIRCULE O NÚMERO 40.
- D) PINTE DE LARANJA O NÚMERO QUE ESTÁ ENTRE O 33 E O 35.
- E) COMPLETE OS NÚMEROS QUE ESTÃO FALTANDO.
- F) COMO SERIA A PRÓXIMA LINHA DEPOIS DO 50? COMPLETE.