


ROTEIRO DE ESTUDO 4 - ATIVIDADE DE MATEMÁTICA - 11/09/2020

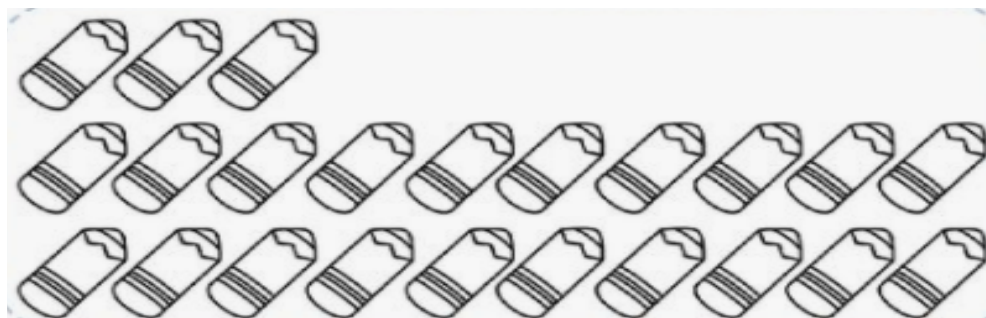
NOME: \_\_\_\_\_

1) VAMOS FORMAR NÚMEROS DE DIFERENTES FORMAS!

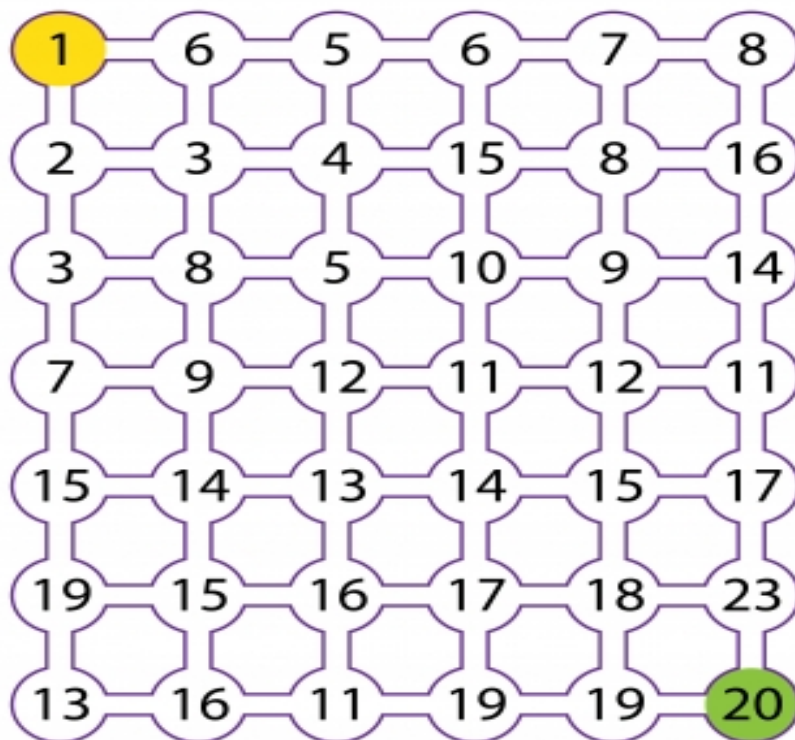


2) OBSERVE OS LÁPIS E RESPONDA:

- QUANTOS GRUPOS DE 10 LÁPIS PODEMOS FORMAR? \_\_\_\_\_
- QUANTOS LÁPIS TÊM NO TOTAL? \_\_\_\_\_
- QUANTOS LÁPIS FALTAM PARA COMPLETAR 3 GRUPOS DE DEZ? \_\_\_\_\_



3) CAMINHE DO 1 AO 20 COM MUITA ATENÇÃO!



4) OBSERVE O QUADRO, LEIA AS INSTRUÇÕES E RESPONDA DE ACORDO:

21		23		25		27	28	29	30
31	32	33	34		36	37	38	39	40
		43	44	45	46	47		49	50

- PINTE DE VERDE O NÚMERO QUE VEM ANTES DO 31.
- PINTE DE VERMELHO O NÚMERO QUE VEM DEPOIS DO 26.
- CIRCULE O NUMERO 40.
- PINTE DE LARANJA O NÚMERO QUE ESTÁ ENTRE O 33 E O 35.
- COMPLETE OS NÚMEROS QUE ESTÃO FALTANDO.
- COMO SERIA A PRÓXIMA LINHA DEPOIS DO 50? COMPLETE.