




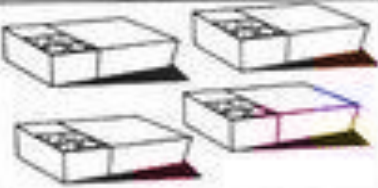


1º ANO - ROTEIRO DE ESTUDO 4 - DIA 17/09/2020

NOME: _____

1) OBSERVE COM ATENÇÃO E RESOLVA:

Preço	Comprei	Gastei
		$5 + 5 = \square$ R\$ = <input type="text"/>
		$4 + 4 + 4 = \square$ R\$ = <input type="text"/>
		$2 + 2 + 2 + 2 = \square$ R\$ = <input type="text"/>

- SISSI COMPROU 1 BONECA E 2 BOLAS. QUANTO ELA GASTOU?

RESPOSTA:

- PATRICIA TEM R\$ 10,00. ELA CONSEGUE COMPRAR 2 BOLAS E 1 JOGO? REPRESENTE:

RESPOSTA:

- QUEM GASTOU MAIS?

SISSI		PATRICIA	
-------	--	----------	--

2) VAMOS BRINCAR DE ENCHER O COFRINHO? ENCONTRE O LUGAR CORRETO:



3) OUÇA E REGISTRE O NUMERAL QUE A PROFESSORA DISSER:

ATIVIDADE COMPLEMENTAR

JOGO DOS DADOS

MATERIAL:

2 DADOS, TABELA (NO KIT) E UM LÁPIS PARA REGISTRO.

MODO DE JOGAR:

- PREENCHA O NOME DOS JOGADORES NA TABELA.
- COMBINE QUEM VAI COMEÇAR.
- JOGUE OS 2 DADOS DE UMA VEZ, SOME AS QUANTIAS E MARQUE SEUS PONTOS NA TABELA.
- AGORA, É A VEZ DO OUTRO PARTICIPANTE.
- SÃO TRÊS JOGADAS. AO FINAL SOMAR TODOS OS PONTOS E VER QUEM MARCOU MAIS PONTOS.

MODELO DA TABELA:

JOGADORES		
1ª JOGADA		
2ª JOGADA		
3ª JOGADA		
TOTAL DE PONTOS		