







1º ANO A - ROTEIRO DE ESTUDO 5 - DIA 18/09/2020

NOME: _____

1) OBSERVE COM ATENÇÃO E RESOLVA:

Preço	Comprei	Gastei
		$5 + 5 = \square$ R\$ = <input type="text"/>
		$4 + 4 + 4 = \square$ R\$ = <input type="text"/>
		$2 + 2 + 2 + 2 = \square$ R\$ = <input type="text"/>

- SISSI COMPROU 1 BONECA E 2 BOLAS. QUANTO ELA GASTOU?

RESPOSTA:

- PATRICIA TEM R\$ 10,00. ELA CONSEGUE COMPRAR 2 BOLAS E 1 JOGO? REPRESENTE:

RESPOSTA:

- QUEM GASTOU MAIS?

SISSI		PATRICIA	
-------	--	----------	--

2) VAMOS BRINCAR DE ENCHER O COFRINHO? ENCONTRE O LUGAR CORRETO:



3) OUÇA E REGISTRE O NUMERAL QUE A PROFESSORA DISSER:
